

Der große Würfel soll mit kleinen Würfeln vollgebaut werden.


Wie viele kleine Würfel passen in den großen Würfel ?



Onkel August isst  $\frac{3}{4}$  (drei Viertel) des Kuchens.

Für Tante Olga bleibt  $\frac{1}{4}$  (ein Viertel) übrig.

Wie viele Stücke Kuchen isst Onkel August ?



Wie viele Stücke Kuchen isst Tante Olga ?



Semra hat genau zwei Wochen nach dem Heiligen Abend (24. Dezember) Geburtstag, Jonas zwei Wochen nach Silvester (31. Dezember).

Wann hat Semra Geburtstag ?

Wann hat Jonas Geburtstag ?





Lenas Mama ist viermal so alt wie Lena.

Lenas Oma ist doppelt so alt wie ihre Mama.

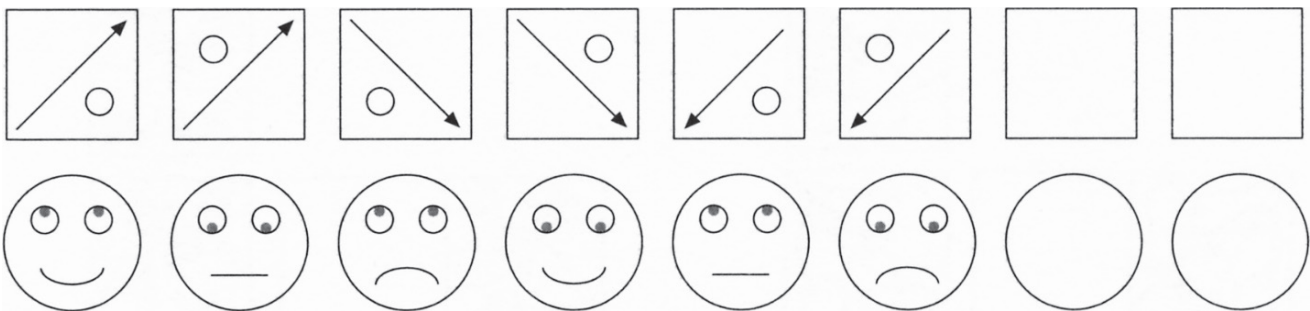
Lenas Oma ist 48 Jahre alt.

Wie alt ist Lena ?

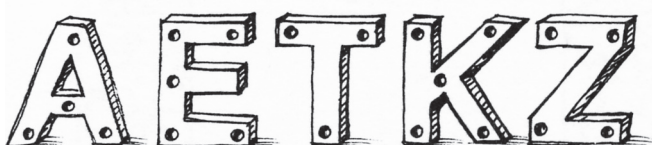
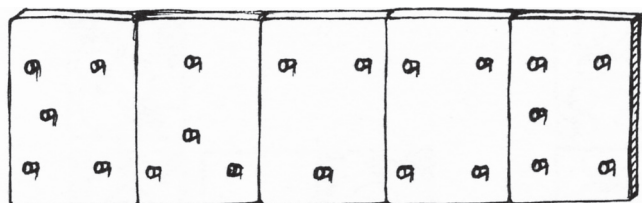
Wie alt ist ihre Mama ?



Setze die Muster fort.



Male, was entsteht.





Nur jeweils eines der drei Spiegelbilder ist richtig. Kreise es ein.

