




Sinn oder Unsinn ?



Wenn eine Aufgabe sinnvoll ist, schreibe sie auf und rechne sie aus.

Wenn es Unsinn ist, schreibe Haha.

- ① Ein Ritter hat 24 Pferde.
Welche Haarfarbe hat er ?



- ② Anna und Lars steigen eine Treppe hinauf.
Anna ist auf Stufe 24, Lars auf Stufe 36.
Wie viele Stufen ist Lars höher ?



- ③ Kerem und Emine spielen mit Murmeln.
Emine hat 18 Murmeln. Das sind vier mehr als Kerem hat.
Wie viele Murmeln haben sie zusammen ?



- ④ Ein Schulheft hat 16 Seiten. Reza hat 9 Seiten voll geschrieben und ein leeres Blatt heraus gerissen. Wie viele leere Seiten sind noch in Rezas Heft ?



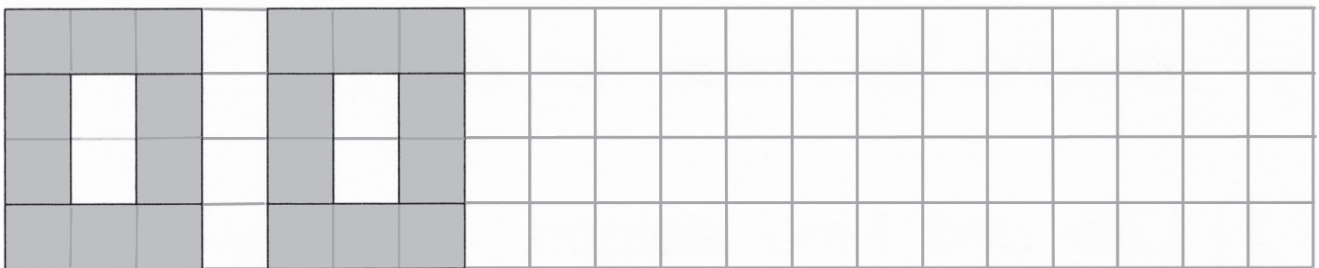
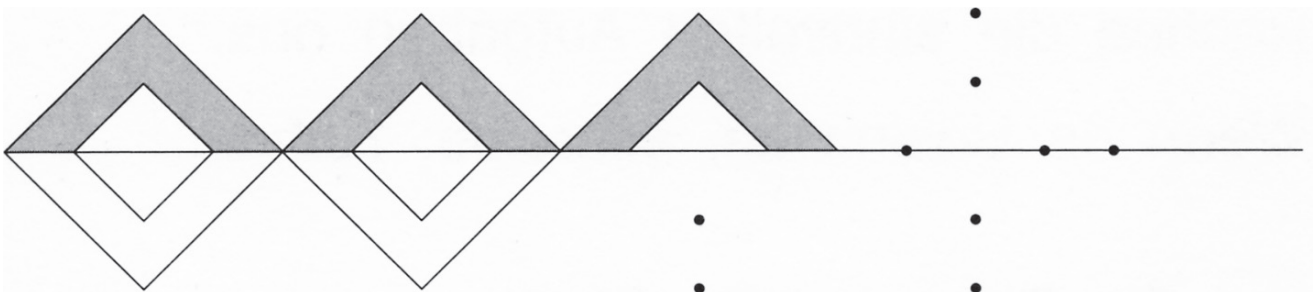
- ⑤ Paul löst 20 Rätsel. Wie viele Rätsel sind schwierig ?





Zeichne die Muster fertig.

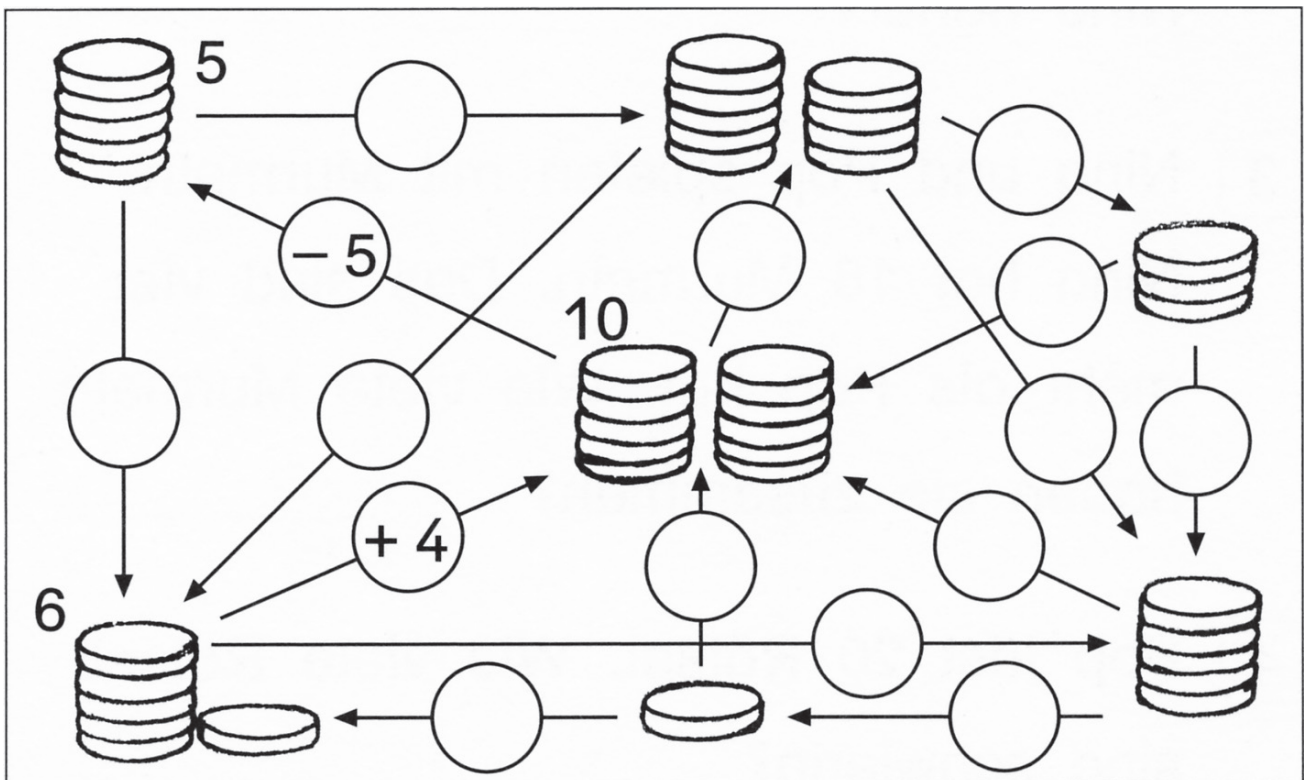
leicht
geht so
schwer



Mal werden es mehr, mal weniger.

Schreibe die fehlenden Zahlen und Rechenbefehle.




leicht
geht so
schwer





Beispiel:

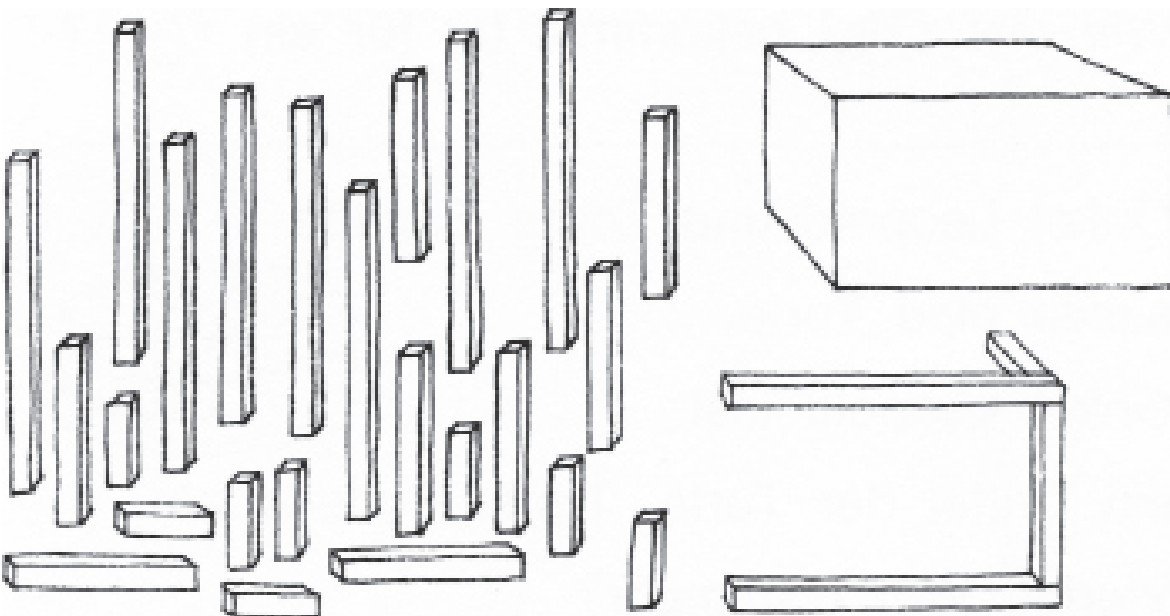
Ergänze die anderen Rechen-Dreiecke.



leicht
geht so
schwer

Aus Stangen sollst du einen Quader bauen.

Male die Stangen aus, die du brauchst.



leicht
geht so
schwer