






Name:..... Klasse:

Immer, wenn du einen Punkt geschafft hast,
male bei der Übung einen Kreis aus.


1  ○○○○○ ○○○○○ ○○○○○
○○○○○ ○○○○○ ○○○○○
○○○

2  ○○○○○ ○○○○○ ○○○○○
○○○○○ ○○○○○

3  ○○○○○ ○○○○○ ○○○○○
○○○○○

4  ○○○○○ ○○○○○

5  ○○○○○ ○○○○○

6  ○○○○○ ○○○○○ ○○○○○
○○○○○ ○○○○○ ○○

7  ○○○○○ ○○○○○ ○○


8  ○○○○○ ○○○○○ ○○○○○


9  ○○○○○ ○○○○○


10  ○○○○○ ○○○○○ ○○○○○
○○○○○

11  ○○○○○ ○○○○○ ○○○○○


12  ○○○○○ ○○○○○ ○○○○○
○○○○○ ○○○○○


13  ○○○○○ ○○○○○ ○○○○○
○○○○○ ○○○○○ ○○○○○
○○○○○ ○○○○○


14  ○○○○○ ○○○○○ ○○○○○
○○○○○ ○○○○○


15  ○○○○○ ○○○○○ ○○○○○
○○○○○ ○○○○○ ○○○○○
○○○○○


16  ○○○○○ ○○○○○ ○○○○○
○○○○○ ○○○○○


17  ○○○○○ ○○○○○ ○○○○○
 ○○○○○ ○○○○○ ○○○○○
 ○○○○○ ○○○○○

18  ○○○○○ ○○○○○ ○○○○○
 ○○○○○ ○○○○○ ○○○○○
 ○○○○○


19  ○○○○○ ○○○○○ ○○○○○
 ○○○○○ ○○○○○ ○○○○○
 ○○

20  ○○○○○ ○○○○○ ○○○○○
 ○○○○○ ○○○○○ ○○○○○

21  ○○○○○ ○○○○○ ○○○○○
 ○○○○○ ○○○○○ ○○○○○
 ○○○○○


22  ○○○○○ ○○○○○ ○○○○○
 ○○○○○ ○○○○○ ○○○○○
 ○○○○○


23  ○○○○○ ○○○○○ ○○○○○

24  ○○○○○ ○○○○○ ○○○○○
 ○○○○○ ○○○○○ ○○○○○

25  ○○○○○ ○○○○○ ○○○○○
 ○○○○○

26  ○○○○○ ○○○○○ ○○○○○
 ○○○○○ ○○○○○ ○○○○○
 ○

27  ○○○○○ ○○○○○ ○○○○○
 ○○○○○ ○○○○○ ○○○○○

28  ○○○○○ ○○○○○ ○○○○○
 ○○○○○ ○○○○○ ○○○○○
 ○○○○○ ○○○○○

Gelöste Märchen

Wenn du ein Märchen gelöst hast, male den Kreis aus.

Ein Märchen ist gelöst,

wenn das Fragezeichen im Buch verschwunden ist.

